


## معمای شطرنج



نوبت حرکت با سفید است، آیا می توانید تنها در سه حرکت، مهره سیاه را مات کنید؟

## خفن استریپ

حدس بزنید تصویر، چه کلمه ای را نشان می دهد! به نمونه توجه کنید و برای این که بدانید کلمه چند حرفی است، تعداد خانه های زیر تصویر را بشمارید.




۲۵۶-۲۴۶-۲۹۳  
۳۵۲-۴۵۲-۸۲۹  
۸۴۶-۸۴۴



## هوش تصویری

در این قسمت معمایی را برای شما انتخاب کرده ایم که حل کردن آن چندان آسان نیست ولی تا آن را حل نکردید از آن دست نکشید. باید بگویید کدام پوسته تخم مرغ نیمه گزینه یک است.



## بازی ریاضی



سه تا از این اعداد درست ولی فقط یکی در جای درست قرار دارد

تمام اعداد غلط هستند


دو تا از این اعداد درست و در جای درست قرار دارند

دو تا از این اعداد درست ولی فقط یکی در جای درست قرار دارد

دو تا از این اعداد درست ولی هیچ کدام در جای درست قرار ندارد

اگر کمی با اعداد رابطه خوبی داشته باشید، می توانید رمز ۵ رقمی مخفی شده را بر اساس داده های بالا بیابید؛ فقط کافی است کمی دقت کنید و رابطه بین اعداد را در سطرهای بالا پیدا کنید.

## عدد دیاب



سه رقمی: ۲۵۶-۲۴۶-۲۹۳  
چهار رقمی: ۲۳۵۴-۲۹۸۷  
پنج رقمی: ۲۹۸۴۳-۲۹۱۵۶  
شش رقمی: ۳۹۵۷۲۸-۳۹۴۶۲۵

## اختلاف تصاویر



آیا می توانید تعداد ۷ تفاوت را بین دو تصویر مشابه پیدا کنید؟  
با این تمرین می توانید آلازایمر را از خود دور کنید. این بازی همچنین ورزشی برای ذهن شماست تا در کارهای روزمره تمرکز بیشتری داشته باشید.  
لذت این بازی زمانی بیشتری می شود که آن را در کنار خانواده و با مشارکت آن ها انجام دهید.



تفاوت ها را در این تصویر پیدا کنید

## تست هوش



با توجه به اعداد داده شده در شکل بالا، گزینه مناسب را برای جای خالی پیدا کنید.

## معمای

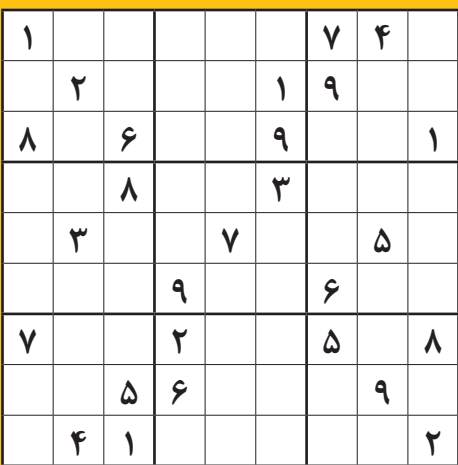
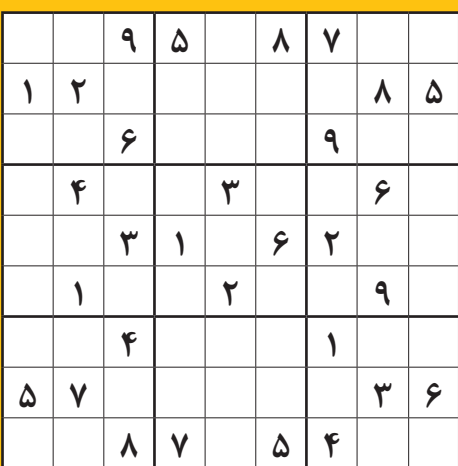


هوش و صبرتان را به چالش بکشید  
چهار استاد داریم که در شهرهای تهران، تبریز، مشهد و شیراز، ریاضی، شیمی، اندیشه و فیزیک تدریس می کنند؛ از شهر ورشته این استادان فقط اطلاعات زیر را داریم:  
استادیک فیزیک تدریس می کند.  
استاد شماره دو در تبریز است.  
استاد شماره سه در مشهد و شیراز نیست.  
استاد شماره چهار اندیشه تدریس می کند.  
استادی که در تهران است، شیمی درس می دهد.  
استادی که در شیراز است ریاضی و شیمی درس نمی دهد.  
استادی که در مشهد است، فیزیک تدریس نمی کند.  
حالا بگویید هر استاد در چه شهری است و چه درسی می دهد؟

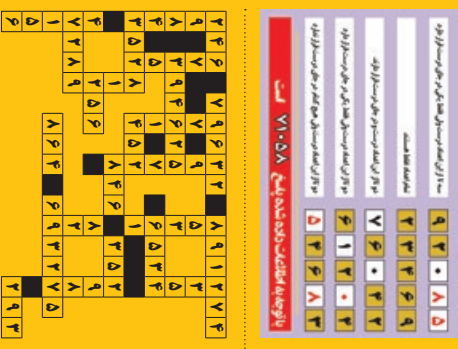
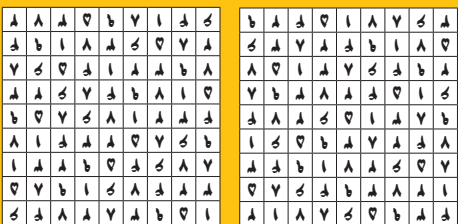


## سودو کو

قانون: ارقام ۱ تا ۹ را در خانه های خالی بنویسید طوری که در هر سطر، در هر ستون و در هر مربع ۳ در ۳ هیچ رقمی تکراری نباشد.



## حل جدول و معماها




این تصویر را به دقت نگاه کنید و تفاوت ها را پیدا کنید.

تفاوت ها را در این تصویر پیدا کنید.

تفاوت ها را در این تصویر پیدا کنید.

## حل جدول شماره ۷۵۰۷

## جدول متوسط ۷۵۰۸




## افقی:

۱. نشانه - بزرگ - درخت کریسمس ۲. بالا بر ماشین - فرو رفته - بازی نفس گیر ۳. فناوری ۴. اخترشناسی - حرف دهان کجی - ارمغان ۵. ابزار -

## جدول سخت ۷۱۵

طراح جدول: خرسند



افقی: ۱. زمین کشاورزی متعلق به دولت در دوره ایلخانان مغول - پادشاه ۲. دشوار - از سنگ های گرانبها - بخش خارجی دهان ۳. اندک - نام حرف خ - فرزین ۴. وورده - مواری بزرگ ۵. اثری از ساموئل ریچاردسون -

## حل جدول شماره ۷۱۴

داروی مالیدنی - جوهر مرد ۶. شامه نواز - خدای درویش - برکت سفره ۷. پادشاه - امر به رفتن - ناپیدا ۸. روح و روان - خویشی - نقطه اینترنتی ۹. زر خرید - ویتامین جدول - ریزنمره ۱۰. ماشین فوریت های پزشکی ۱۱. درخت زبان گنجشک - سخن بی پرده - قیمت بازاری ۱۲. ماه پرتابی - آشوب - عدسی دوربین

## عمودی:

۱. پرهیز - جلال ۲. عدد دروازه بان - پیشقراول - محصول مرداب ۳. میوه خشکبار - آواز ۴. امر - خرابکاری اینترنتی - اراده قوی ۵. امتیاز و ایبال ۶. سالنامه - مشایعت نظامی ۷. الماس تراش خورده - ایوان ۸. ورزش هنر پرتاب ۹. سان - تازه - عمارت ۱۰. زاپاس - وسیله درو ۱۱. طمع - خاطره - تکنیک ۱۲. برای کسی که وجودش عزیز و ارزشمند است به کار می رود - تفاوت



## حل جدول شماره ۷۵۰۷