




هوش منطقی

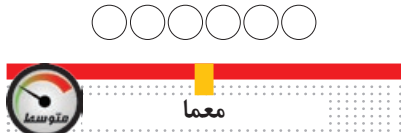


با توجه به منطق اعداد موجود در مثلث، عدد مربوط به جای علامت سوال را پیدا کنید.



خفن استریپ

حدس بزنید تصویر، چه کلمه ای را نشان می دهد! به نمونه توجه کنید و برای این که بدانید کلمه چند حرفی است، تعداد خانه های زیر تصویر را بشمارید.



معمّا

کیک های آشپز خانه


در یک آشپزخانه تولید شیرینی، در انتهای یک روز کاری، تمام شیرینی ها به قنادی منتقل شدند و تنها سه جعبه باقی ماند که داخل هر کدام سه عدد کیک وجود داشت.

در نیمه های شب یکی از کارگران به آشپزخانه بر می گردد و سه تا از کیک های این سه جعبه را نوش جان می کند! با کمال ناباوری، صبح که این آشپزخانه شروع به فعالیت می کند، درون هر یک از این سه جعبه همچنان سه کیک موجود است. به نظر شما چه اتفاقی می تواند رخ داده باشد؟!




جدول سخت | ۸۴۵

افقی: ۱. جهنم-سم سیگار ۲. نت سوم-جلوه-لنت ۳. تمرین-کلام پرسش-ایتالیای قدیم ۴. هنر تلفیقی در نقاشی-پرس ۵. خاک صنعتی-مهاجرت ۶. تنیسور سوئیسی



بازی ریاضی



اگر کمی با اعداد رابطه خوبی داشته باشید، می توانید رمز ۵ رقمی مخفی شده را بر اساس داده های بالا بیابید؛ فقط کافی است کمی دقت کنید و رابطه بین اعداد را در سطرهای بالا پیدا کنید.

شرح در متن



اختلاف تصاویر


آیا می توانید تعداد ۱۰ تفاوت را بین دو تصویر مشابه پیدا کنید؟

با این تمرین می توانید آزمون را از خود دور کنید. این بازی همچنین ورزشی برای ذهن شماست تا در کارهای روزمره تمرکز بیشتری داشته باشید.

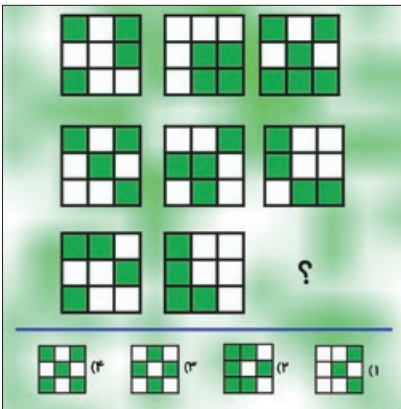


جدول متوسط | ۷۶۳۹

افقی: ۱. بازیگر سریال دیوار به دیوار ۲. جایز-عقیده-حبله گر ۳. شهر جشنواره-سازمان جاسوسی آمریکا-حجم فرعون ۴. رگ باریک-محافظ خودرو ۵. از



تست هوش



با توجه به شکل های داده شده در تصویر بالا، گزینه مناسب را انتخاب کنید.



سخت


آیا می توانید تعداد ۱۰ تفاوت را بین دو تصویر مشابه پیدا کنید؟

با این تمرین می توانید آزمون را از خود دور کنید. این بازی همچنین ورزشی برای ذهن شماست تا در کارهای روزمره تمرکز بیشتری داشته باشید.




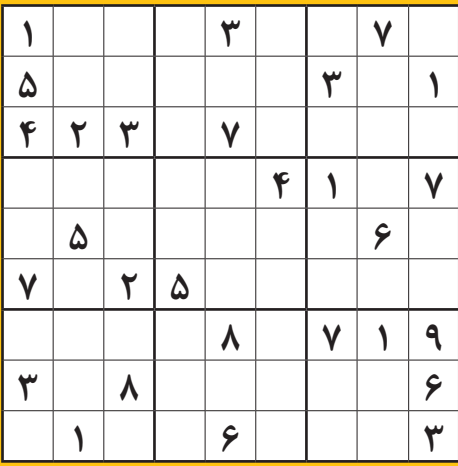
جدول متوسط | ۷۶۳۹

افقی: ۱. بازیگر سریال دیوار به دیوار ۲. جایز-عقیده-حبله گر ۳. شهر جشنواره-سازمان جاسوسی آمریکا-حجم فرعون ۴. رگ باریک-محافظ خودرو ۵. از

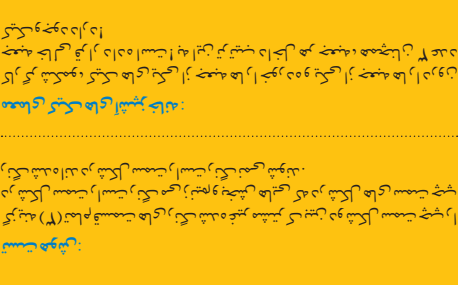
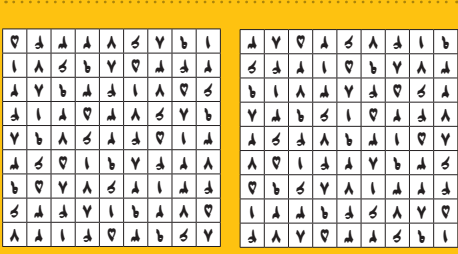


سودو کو

قانون: ارقام ۱ تا ۹ را در خانه های خالی بنویسید طوری که در هر سطر، در هر ستون و در هر مربع ۳ در ۳ هیچ رقمی تکراری نباشد.



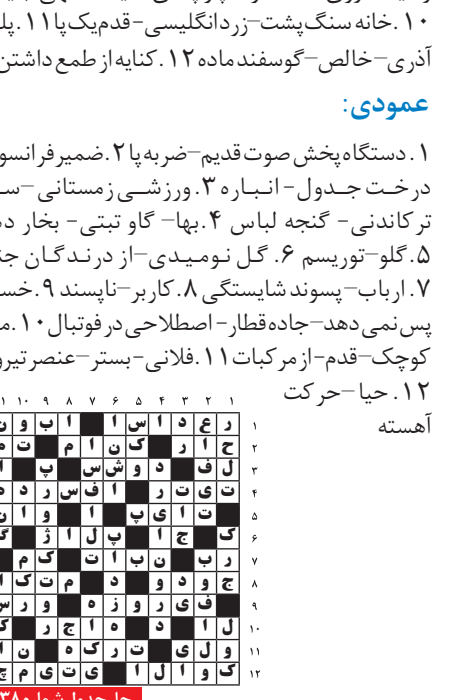
حل جدول و معماها



حل جدول شماره ۷۶۳۸

جدول سخت | ۸۴۵

افقی: ۱. جهنم-سم سیگار ۲. نت سوم-جلوه-لنت ۳. تمرین-کلام پرسش-ایتالیای قدیم ۴. هنر تلفیقی در نقاشی-پرس ۵. خاک صنعتی-مهاجرت ۶. تنیسور سوئیسی



حل جدول شماره ۷۶۳۸